



KOD UCZNIĄ

KONKURS PRZEDMIOTOWY Z GEOGRAFII DLA UCZNIÓW DOTYCHCZASOWYCH GIMNAZJÓW

ETAP WOJEWÓDZKI

4 marca 2019 r.

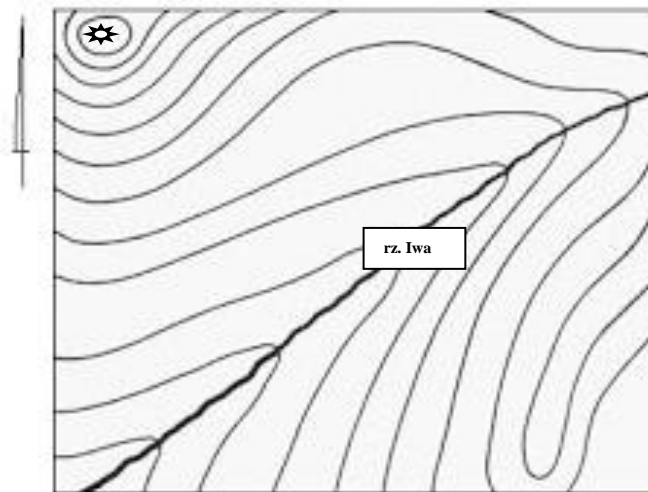
Ważne informacje

1. *Test składa się z 25 zadań. Masz 90 minut na ich rozwiązanie. Możesz zdobyć 40 pkt.*
2. *Zapisz szczegółowe obliczenia. Możesz korzystać z kalkulatora i linijki.*
3. *Pisz długopisem lub piórem, nie używaj ołówka ani korektora. Jeżeli się pomylisz, przekreśl błąd i napisz ponownie odpowiedź lub zaznacz inną.*
4. *Pisz czytelnie i zamieszczaj odpowiedzi w miejscach na to przeznaczonych. Pamiętaj, że zapisy w brudnopisie nie podlegają ocenie.*
5. *Pracuj samodzielnie, korzystając z własnej wiedzy i umiejętności!*

Życzymy powodzenia!

Maksymalna liczba punktów	40	100%
Uzyskana liczba punktów		
Podpis osoby sprawdzającej		

Korzystając z zamieszczonej mapy poziomicowej, wykonaj zadnia nr 1 i 2.



Źródło: www.poziomica.bologspot.com

Zadanie 1.

(0 – 2 p.)

Uzupełnij rysunek, odpowiednio opisując poziomice z lewej strony ramki oraz zaznaczając kierunek biegu rzeki Iwy. Poziomice poprowadzone są co 100 m. Punkt widokowy (☆) znajduje się na wysokości 1720 m n.p.m.

Zadanie 2.

(0 – 2 p.)

Wiedząc, że mapa została wykonana w skali 1 : 200 000, oblicz, jaką powierzchnię rzeczywistą zajmuje przedstawiony na mapie fragment (6 cm x 8 cm). Wynik podaj w km². Zapisz obliczenia.

Obliczenia:

Wynik:.....

Zadanie 3.

(0 – 1 p.)

Zaznacz rok, który w kalendarzu gregoriańskim jest rokiem przestępnym.

- a) 1990 b) 2000 c) 2018 d) 2100

Zadanie 4.

(0 – 1 p.)

Zaznacz poprawne dokończenie zdania.

Pasaty są to:

- a) wiatry wiejące od zwrotników do równika.
b) wiatry wiejące od równika do zwrotników.

Zadanie 5.

(0 – 1 p.)

Oblicz, która godzina czasu strefowego jest w miejscowości Y, znajdującej się w strefie czasu zachodnioeuropejskiego (0°), jeśli w tym samym momencie w miejscowości X, znajdującej się w strefie czasu moskiewskiego (45°E), jest godzina 14.15 czasu strefowego. Zapisz obliczenia.

Obliczenia:

Godzina czasu strefowego w miejscowości Y:.....

Zadanie 6.

(0 – 1 p.)

Rozpoznaj zamieszczony poniżej kontur jednego z państw Europy. Podaj nazwę tego państwa i jego stolicę.



Państwo

Stolica

Zadanie 7.

(0 – 1 p.)

Oblicz rozciągłość równoleżnikową pomiędzy Gdańskiem a Wrocławiem.

Współrzędne geograficzne **Gdańska** [54°21'N, 18°38'E]

Współrzędne geograficzne **Wrocławia** [51°06'N, 17°02'E]

Zapisz obliczenia.

Odpowiedź:

Zadanie 8.**(0 – 2 p.)****Dokończ zdania, wybierając A albo B i 1. albo 2.**

a) Do najmłodszych ruchów górotwórczych zalicza się

A.	fałdowanie kaledońskie.	W trakcie tej orogenezy zostały sfałdowane i wypiętrzone między innymi	1.	Karpaty.
B.	fałdowanie alpejskie.		2.	Sudety.

b) Średni promień Ziemi wynosi około

A.	6 370 km.	Im dalej w głąb Ziemi, tym temperatura	1.	jest wyższa.
B.	12 740 km.		2.	jest niższa.

Zadanie 9.**(0 – 3 p.)****Uporządkuj podane w tabeli elementy według podanych kryteriów. Obok elementów wpisz odpowiednie cyfry od 1 do 3.**

Kryterium wyznaczenia kolejności	Elementy do uporządkowania
Od największego (1) do najmniejszego jeziora (3)	Bajkał, Balaton, Bałchasz
Od największej (1) do najmniejszej wyspy (3)	Cejlon, Celebes, Cypr
Od najdłuższej (1) do najkrótszej rzeki (3)	Dniepr, Dniestr, Dunaj.....

Zadanie 10.**(0 – 1 p.)****Podkreśl państwa, które nie należą do Unii Europejskiej.***Dania, Estonia, Finlandia, Islandia, Norwegia, Szwecja*

Zadanie 11.**(0 – 1 p.)**

Uzupełnij tabelę, wpisując nazwy klimatycznych pór roku w Polsce.

Średnia dobowa temperatura	powyżej 15°C	15°C - 5°C	5°C - 0°C	poniżej 0°C	0°C - 5°C	5°C - 15°C
Klimatyczna pora roku	lato			zima		

Zadanie 12.**(0 – 3 p.)**

Podaj nazwy wysp, których kontury przedstawiono poniżej. Pasujące nazwy wybierz z podanych. Uwaga! Mapy konturowe narysowane są w różnych skalach.

Tasmania, Bornholm, Grenlandia, Gotlandia, Islandia, Irlandia



A

B

C

Zadanie 13.**(0 – 1 p.)****Zaznacz prawidłowe zakończenie zdania.**

Zespół miejski, w skład którego wchodzi między innymi następujące miasta: Warszawa, Wołomin, Piaseczno, Radzymin, Marki, Łomianki, Otwock, nazywany jest

- konurbacją warszawską.
- aglomeracją warszawską (monocentryczną).
- aglomeracją warszawską (policentryczną).
- suburbiami warszawskimi.

Zadanie 14.**(0 – 2 p.)**

Skreśl w podanych zdaniach informacje fałszywe.

- a) Niewielkie obszary Polski należą do zlewiska *Morza Północnego i Czarnego / Morza Północnego i Białego*.
- b) W składzie gatunkowym polskich lasów dominuje *świerk / sosna*.
- c) Łądogłód skandynawski nasuwał się na terytorium Polski w trakcie ery *mezozoicznej / kenozoicznej*.
- d) Okres wegetacyjny w Polsce trwa średnio około *100 / 200* dni.

Zadanie 15.**(0 – 2 p.)**

Oceń prawdziwość podanych zdań. Zaznacz P, jeśli zdanie jest prawdziwe, albo F, jeśli zdanie jest fałszywe.

Wszystkie kraje nadbałtyckie są członkami Unii Europejskiej.	P	F
Średnie zasolenie Morza Bałtyckiego wynosi mniej niż 10 ‰.	P	F
Wyspa Bornholm jest częścią Danii.	P	F
Źródło Odry znajduje się na terytorium Polski.	P	F
Polska granica morska ma ponad 400 km długości.	P	F

Zadanie 16.**(0 – 1 p.)**

Uszereguj największe polskie miasta według rosnącej liczby ludności.

Wrocław, Kraków, Poznań, Łódź

Miasto o najmniejszej liczbie ludności.

Miasto o największej liczbie ludności.

Zadanie 17.**(0 – 1 p.)**

Dla ukazania różnic w poziomie rozwoju Organizacja Narodów Zjednoczonych wprowadziła tzw. HDI (ang. Human Development Index). Podaj rozwinięcie skrótu HDI w języku polskim.

Odpowiedź:.....

Zadanie 18.

(0 – 3 p.)

Przyporządkuj każdemu zestawieniu województw właściwe kryterium doboru, wybierając z podanych w ramce. Skorzystaj z mapy podziału administracyjnego Polski.



Zestawienie województw:

1. lubelskie, podlaskie, podkarpackie
2. dolnośląskie, opolskie, śląskie
3. dolnośląskie, lubuskie, zachodniopomorskie
4. śląskie, małopolskie, podkarpackie
5. opolskie, lubuskie, podlaskie

Kryterium doboru:

-
-
-
-
-

Kryteria doboru województw:

A – położone są przy wschodniej granicy Polski, **B** – graniczą ze Słowacją, **C** – graniczą z Czechami, **D** – położone są przy zachodniej granicy Polski, **E** – przez ich terytorium przebiega dział wodny rozdzielający dorzecze Wisły i Odry, **F** – położone są przy północnej granicy Polski, **G** – należą do najmniej zaludnionych województw.

Zadanie 19.

(0 – 2 p.)

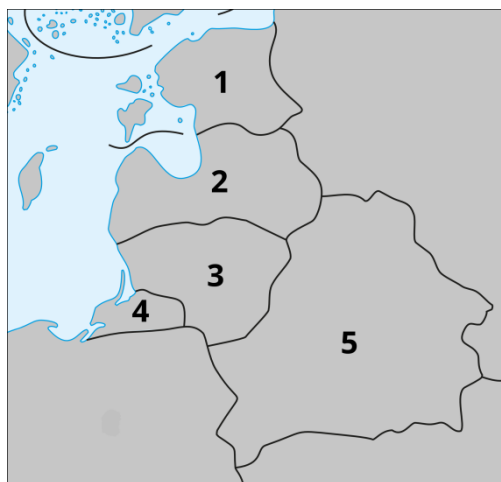
Wśród podanych niżej cech ukształtowania powierzchni podkreśl wszystkie te, które zawierają błędną informację o ukształtowaniu powierzchni Polski.

- a) Powierzchnia Polski obniża się od południa ku północnemu zachodowi.
- b) Rzeźba w pasie nizin środkowopolskich ma charakter młodogłacjalny.
- c) Polska jest krajem wybitnie wyżynnym.
- d) Wielkie formy ukształtowania terenu na obszarze naszego kraju układają się pasowo.
- e) Północna część naszego kraju ma rzeźbę starogłacjalną.
- f) Polska jest krajem w zdecydowanej większości nizinnym.

Zadanie 20.

(0 – 2 p.)

Na konturowej mapie fragmentu Europy cyframi zaznaczono wybrane państwa powstałe w wyniku rozpadu ZSRR. Wpisz do tabeli nazwy państw nr 1, 3, 5 i podaj ich stolice.



Źródło: www.epodreczniki.pl

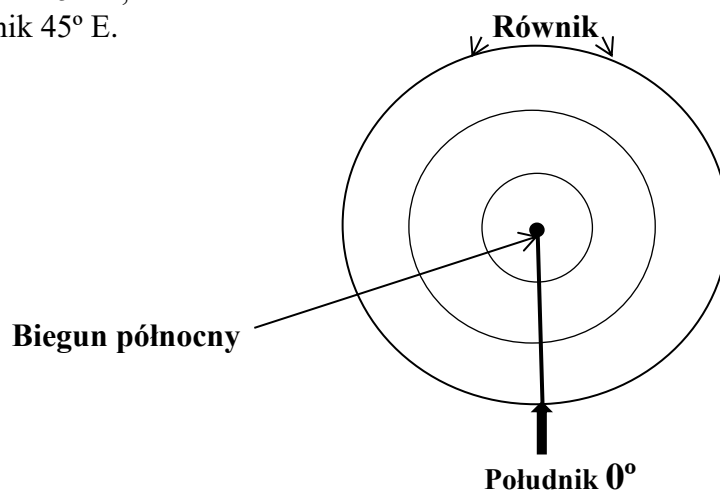
Lp.	Państwo	Stolica
1.		
3.		
5.		

Zadanie 21.

(0 – 1 p.)

Rysunek przedstawia Ziemię widzianą od strony bieguna północnego. Zaznacz linią ciągłą na rysunku (z podaniem wartości):

- a) południk 180°,
- b) południk 45° W,
- c) południk 45° E.



Zadanie 22.**(0 – 3 p.)****Zaznacz znakiem X zdania poprawnie charakteryzujące rolnictwo Polski.**

Lp.	Zdania	Odpowiedź
1.	Przeważająca część użytków rolnych w Polsce jest własnością prywatną.	
2.	Ponad 50% polskich gospodarstw rolnych ma powierzchnię ponad 20 ha.	
3.	Największą część użytków rolnych stanowią grunty orne.	
4.	Większą część gruntów ornyczych zajmuje uprawa ziemniaków.	
5.	Wśród zbóż największą powierzchnię upraw zajmuje pszenica.	
6.	Polska ma bardzo niekorzystne warunki przyrodnicze rozwoju rolnictwa.	

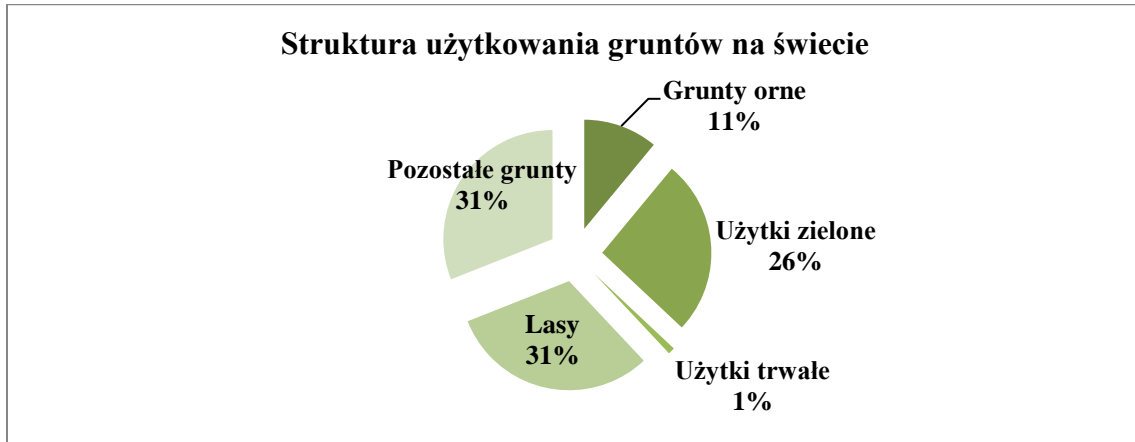
Zadanie 23.**(0 – 1 p.)****Poniżej wypisano nazwy 10 obiektów turystycznych Polski. Podkreśl trzy, które znajdują się na liście światowego dziedzictwa UNESCO.**

- a) Park Narodowy „Ujście Warty”
- b) Stare Miasto w Rzeszowie
- c) Zabytkowy Rynek Poznania wraz z ratuszem
- d) Puszcza Białowieska
- e) Tatrzański Park Narodowy
- f) „Droga Królewska” w Gdańsku
- g) Stare Miasto w Zamościu
- h) Królewskie Kopalnie Soli w Wieliczce i Bochni
- i) Wydmy śródłądowe w Słowińskim Parku Narodowym
- j) Zamki krzyżackie na Pomorzu – Gniew, Kwidzyn, Świdwin

Zadanie 24.

(0 – 1 p.)

Wykres przedstawia strukturę użytkowania gruntów na świecie. Jaki procent całkowitej powierzchni lądowej kuli ziemskiej stanowią użytki rolne? Wybierz odpowiedź spośród podanych niżej.



A. 38%

B. 37%

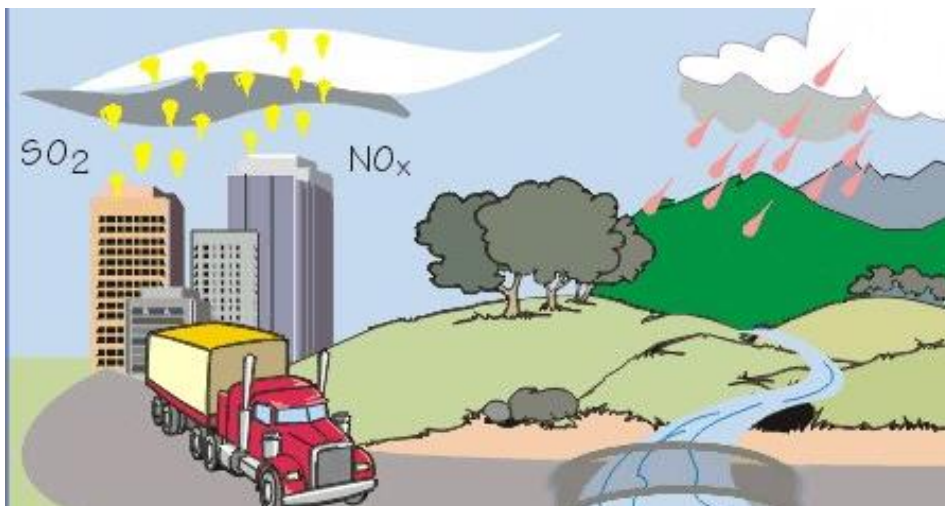
C. 11%

D. 27%

Zadanie 25.

(0 – 1 p.)

Podaj nazwę niekorzystnego zjawiska przedstawionego na rysunku.



Źródło: <http://www.geography.learnontheinternet.co.uk>

Odpowiedź:

Brudnopsis: