



KOD UCZNIĄ

KONKURS PRZEDMIOTOWY Z GEOGRAFII DLA UCZNIÓW DOTYCHCZASOWYCH GIMNAZJÓW

ETAP WOJEWÓDZKI
6 marca 2018 r.

Ważne informacje

1. Test składa się z **26** zadań. Masz **90 minut** na ich rozwiązanie. Możesz zdobyć **50** punktów.
2. Zapisz szczegółowe obliczenia i komentarze do rozwiązań zadań prezentujące sposób Twojego rozumowania. Możesz korzystać z kalkulatora i linijki.
3. Pisz długopisem lub piórem, nie używaj ołówka ani korektora. Jeżeli się pomylisz, przekreśl błąd i napisz odpowiedź ponownie lub zaznacz inną.
4. Pisz czytelnie i zamieszczaj odpowiedzi w miejscach na to przeznaczonych. Pamiętaj, że zapisy w brudnopisie nie podlegają ocenie.
5. Aby zostać laureatem konkursu, musisz uzyskać co najmniej **45** punktów.
6. Pracuj samodzielnie, korzystając z własnej wiedzy i umiejętności!

Życzymy Ci powodzenia!

Maksymalna liczba punktów	50	100%
Uzyskana liczba punktów		
Podpis osoby sprawdzającej		

Część I (0-15p.)

**Spośród podanych odpowiedzi wybierz i zaznacz poprawną.
Pamiętaj, tylko jedna odpowiedź jest prawidłowa!**

Zadanie 1. Status gminy miejskiej w województwie lubuskim mają m.in.:

- a) Gorzów Wlkp., Rzepin, Słubice.
- b) Zielona Góra, Łęknica, Nowa Sól.
- c) Żary, Żagań, Międzyrzecz.
- d) Zielona Góra, Świebodzin, Gorzów Wlkp.

Zadanie 2. Obecnie drugi stopień podziału administracyjnego Polski obejmuje

- a) 380 powiatów, w tym 66 miast na prawach powiatu.
- b) 2479 gmin, w tym 306 gmin miejskich.
- c) 324 powiaty, w tym 66 miast na prawach powiatu.
- d) 68 powiatów, w tym 280 miast na prawach powiatu.

Zadanie 3. Województwa graniczące z województwem lubuskim uszeregowane wg rosnącej powierzchni to:

- a) dolnośląskie, zachodniopomorskie, wielkopolskie.
- b) wielkopolskie, zachodniopomorskie, dolnośląskie.
- c) zachodniopomorskie, dolnośląskie, wielkopolskie.
- d) wielkopolskie, dolnośląskie, zachodniopomorskie.

Zadanie 4. Gdybyś chciał dotrzeć z bieguna południowego do Australii, to wyruszyłbyś w kierunku

- a) północno wschodnim.
- b) wschodnim.
- c) każdym innym niż południowy.
- d) północnym.

Zadanie 5. W Polsce podczas wakacji w 2017 roku obowiązywał „czas letni”, który należał do strefy czasu

- a) wschodnioeuropejskiego.
- b) zachodnioeuropejskiego.
- c) uniwersalnego.
- d) środkowoeuropejskiego.

Zadanie 6. Erozja gleb jest procesem polegającym na

- a) wytrącaniu dużych okruchów skalnych.
- b) gromadzeniu się metali.
- c) obniżaniu się poziomu wód gruntowych.
- d) usuwaniu i przemieszczaniu cząstek mineralnych i organicznych.

Zadanie 7. Skąły budujące Wyżynę Krakowsko-Częstochowską to

- a) granity i bazalty.
- b) piaski i żwiry.
- c) gnejsy i marmury.
- d) wapienie i margle.

Zadanie 8. Dużą część naszego kraju porastały niegdyś grądy, czyli

- a) lasy mieszane, gdzie oprócz sosen rosną dęby, modrzewie i brzozy.
- b) lasy z dominacją wierzby, jesionu i lipy.
- c) wielogatunkowe lasy liściaste z przewagą dębu i grabu.
- d) lasy porastające bagienne obniżenia.

Zadanie 9. Do rodziny języków indoeuropejskich należą między innymi:

- a) włoski, angielski, ukraiński, tamilski.
- b) włoski, węgierski, angielski, niemiecki.
- c) węgierski, bułgarski, angielski, czeski.
- d) angielski, niemiecki, hiszpański, francuski.

Zadanie 10. Przymusowe wydalenie cudzoziemca poza granice kraju to

- a) ewakuacja.
- b) reemigracja.
- c) deportacja.
- d) repatriacja.

Zadanie 11. Podstawą konstrukcji kalendarza jest

- a) ruch wirowy Ziemi.
- b) ruch obiegowy Ziemi.
- c) stałe nachylenie osi ziemskiej do płaszczyzny orbity Ziemi.
- d) ruch obiegowy Księżycy.

Zadanie 12. Obszar, z którego wody spływają do jednej rzeki, to

- a) zlewisko.
- b) roztocze.
- c) dorzecze.
- d) starorzecze.

Zadanie 13. Działanie polegające na przywróceniu zdegradowanemu środowisku jego pierwotnego charakteru nazywamy

- a) bioregeneracją.
- b) rewitalizacją.
- c) rekultywacją.
- d) restrukturyzacją.

Zadanie 14. Zbudowaną w Norwegii świątynię Wang możemy zwiedzić w

- a) Zakopanem.
- b) Szklarskiej Porębie.
- c) Kłodzku.
- d) Karpaczu.

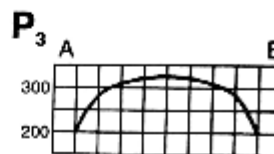
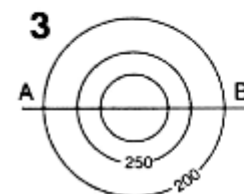
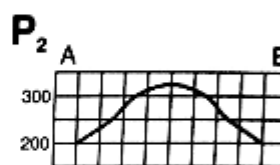
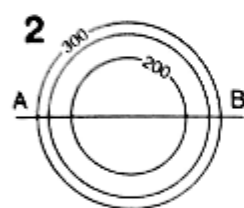
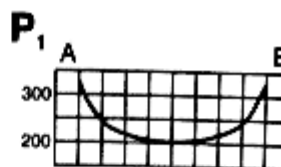
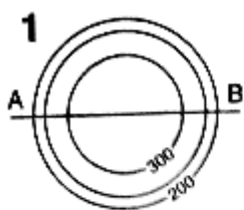
Zadanie 15. Za ruchy płyt tektonicznych w obrębie litosfery odpowiedzialne są

- a) prądy syzygijne.
- b) prądy konwekcyjne.
- c) trzęsienia ziemi.
- d) siła Coriolisa.

Część II

Zadanie 16. (0-3p.)

Przyporządkuj rysunki poziomicowe form terenu do odpowiadających im profili wykonanych wzdłuż odcinków AB.



źródło: *Geografia*, Wydawnictwo Oświatowe ORTUS, Raszyn 2002

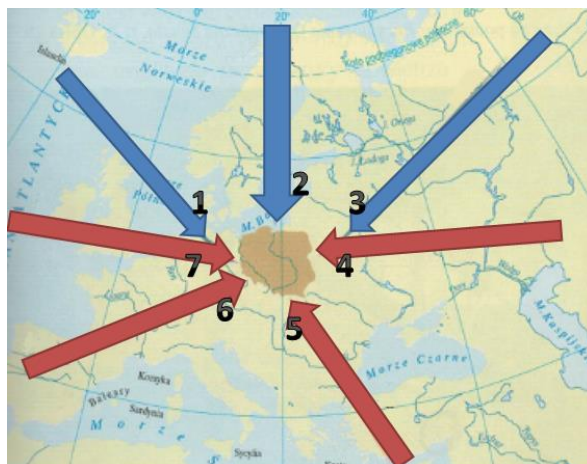
1.

2.

3.

Zadanie 17. (0-3p.)

Rycina przedstawia główne masy powietrza napływające nad Polskę. Przyporządkuj numerom od 1. do 7. odpowiadające im skróty nazw tych mas powietrza: PZk, PA, PPmc, PZm, PPkc, PPMch, PPKch.

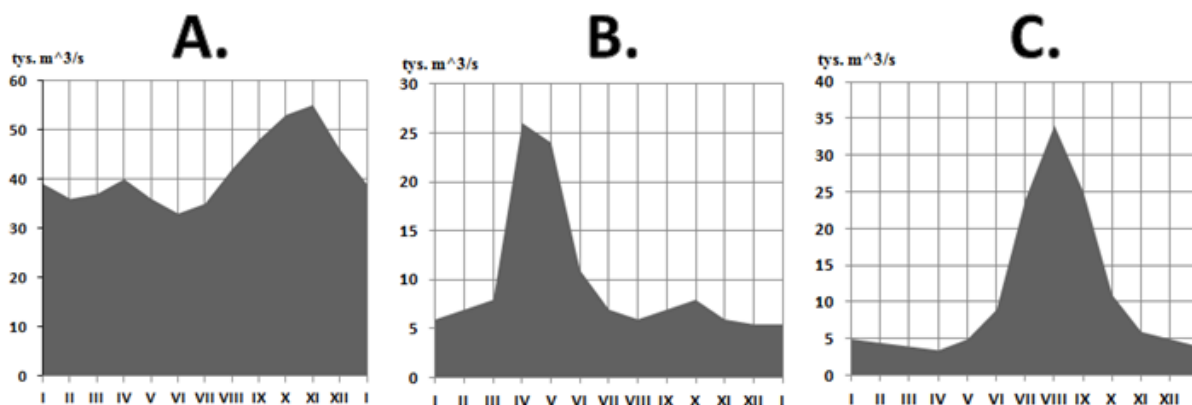


źródło: Świat bez tajemnic, PWN, Warszawa 2014

1. 2. 3. 4. 5. 6. 7.

Zadanie 18. (0-3p.)

Ryciny przedstawiały przepływy w trzech rzekach: Woldze, Kongo i Gangesie. Dopasuj diagramy A, B, C do tych rzek i w przypadku każdej z nich podaj przyczynę najwyższych przepływów np. topnienie lodowców.



źródło: Rzeki kuli ziemskiej, PWN, Warszawa 1987

Rzeka A, przyczyna:.....

Rzeka B, przyczyna:.....

Rzeka C, przyczyna:.....

Zadanie 19. (0-3p.)

Pasmom górskim oznaczonym literami: A – Karkonosze, B – Tatry, C – Góry Świętokrzyskie, D – Góry Stołowe, E – Beskid Żywiecki, F – Gorce, G – Bieszczady przyporządkuj nazwy ich szczytów: 1 – Tarnica, 2 – Śnieżka, 3 – Turbacz, 4 – Babia Góra, 5 – Szczeliniec Wielki, 6 – Rysy, 7 – Łysica, wpisując w odpowiednie miejsce cyfry od 1 do 7.

A. B. C. D. E. F. G.

Zadanie 20. (0-3p.)

Oblicz rozciągłość południkową i równoleżnikową kontynentów A i B o podanych punktach:

<p>A a) – 12° 24' N b) – 55° 59' S c) – 34° 48' W d) – 84° 19' W</p>	<p>B a) – 37° 21' N b) – 34° 51' S c) – 51° 23' E d) – 17° 33' W</p>
---	---

Podaj ich nazwy.

Obliczenia:

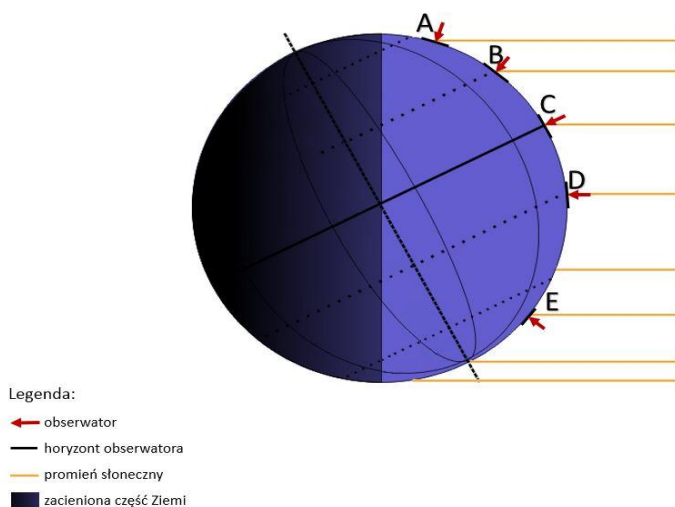
- A) rozciągłość południkowa:
 rozciągłość równoleżnikowa:
 nazwa kontynentu:
- B) rozciągłość południkowa:
 rozciągłość równoleżnikowa:
 nazwa kontynentu:

Zadanie 21. (0-3p.)

Oceń prawdziwość każdej informacji. Wpisz znak „X” w odpowiednie komórki tabeli.

	INFORMACJA	PRAWDA	FAŁSZ
1.	Wraz ze wzrostem wysokości bezwzględnej następuje spadek temperatury powietrza i wzrost sumy opadów.		
2.	Na Ziemi występuje astrefowy układ temperatury powietrza zgodny ze strefami oświetlenia Ziemi.		
3.	Ciepłe prądy morskie podnoszą temperaturę powietrza i zwiększają ilość opadów w strefie wybrzeża.		

Zadanie 22. (0-7p.)



źródło: <http://edudu.pl/userfiles/image/ruch%20obrotowy%20i%20obiegowy%20ziemi%206.jpg>

Przeanalizuj rysunek powyżej i uzupełnij związane z nim zdania.

1. Rysunek przedstawia oświetlenie Ziemi dnia
2. Za północnym kołem polarnym występuje
3. Słońce świeci w zenicie u obserwatora
4. Najwyżej nad horyzontem po północnej stronie nieba górowanie Słońca widzi obserwator
5. Najniżej nad horyzontem po południowej stronie nieba górowanie Słońca widzi obserwator
6. Im bliżej równika na półkuli południowej, tym dzień jest
7. Spośród obserwatorów A, B, C największą wartość szerokości geograficznej GPS wskaże u obserwatora

Zadanie 23. (0-2p.)

Nazwij metodę kartograficzną, za pomocą której przedstawiłbyś na mapie:

- a) rozmieszczenie obiektów kultu Maryjnego w Polsce.....
- b) niż atmosferyczny.....
- c) średnią gęstość zaludnienia wg województw.....
- d) strukturę gałęziową i wielkość okręgów przemysłowych w Europie.....

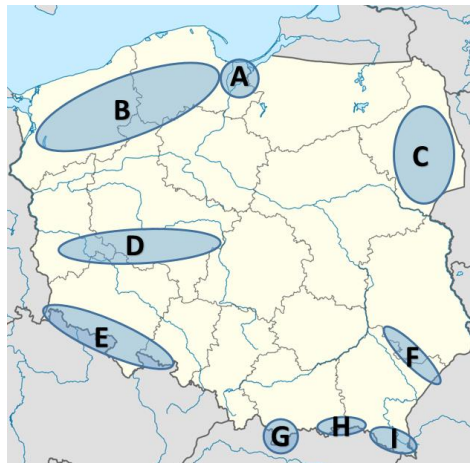
Zadanie 24. (2p.)

Liczba ludności Polski w 2016 roku wynosiła 38 433 tys. mieszkańców. W tym roku urodziło się 382,3 tys. osób, a zmarło 388,0 tys. Jak zmieniła się liczba mieszkańców Polski w 2016, skoro przybyło 13,5 tys. imigrantów, a wyjechało 12 tys. osób?

- a) Zmniejszyła się o 4,2 tys.
- b) Zwiększyła się o 6,2 tys.
- c) Zmniejszyła się o 42 tys.

Zadanie 25. (0-3p.)

Na mapie literami od A do I zaznaczono krainy geograficzne Polski. Do symbolu litery dopisz nazwę krainy geograficznej.

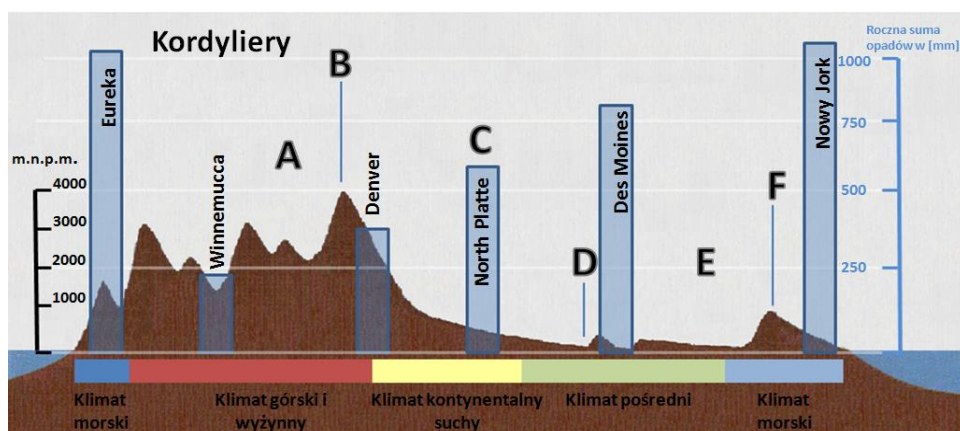


źródło: wikipedia.org/wiki/Modul:Mapa/dane/Polska#/media/File:Poland_location_map.svg

Symbol na mapie	Nazwa krainy geograficznej
A	
B	
C	
D	
E	
F	
G	
H	
I	

Zadanie 26. (0-3p.)

Na profilu hipsometrycznym przez Amerykę Północną wzdłuż równoleżnika 40°N rozpoznaj krainy oznaczone literami od A do F. Wpisz w odpowiednich miejscach: Appalache, Missisipi, Wielkie Równiny, Góry Skaliste, Wielka Kotlina, Niziny Wewnętrzne.



źródło: Świat bez tajemnic, PWN, Warszawa, 2014

A. B. C.
 D. E. F.

BRUDNOPIS