

Kod ucznia	
Liczba punktów	

KONKURS PRZEDMIOTOWY Z HISTORII DLA UCZNIÓW SZKÓŁ PODSTAWOWYCH ZAWODY WOJEWÓDZKIE – 4.04.2024 r.

Drogi Uczniu,


witamy Cię na III etapie konkursu przedmiotowego z historii. Przeczytaj uważnie instrukcję i postaraj się prawidłowo wykonać wszystkie zadania.

- Arkusz liczy 11 stron i zawiera 19 zadań.
- Przed rozpoczęciem pracy sprawdź, czy Twój test jest kompletny. Jeśli zauważysz usterki, zgłoś ten fakt Komisji Konkursowej.
- Polecenia czytaj uważnie i ze zrozumieniem.
- Nie używaj korektora.
- Dbaj o czytelność pisma i precyzję odpowiedzi.
- Czas pracy: 90 minut.

Powodzenia!

Ilustracja do zadania 1.

https://pl.wikipedia.org/wiki/Husaria#/media/Plik:Hetman%60s_guard.PNG



Zadanie 1. Na ilustracji zaznaczono literami A – F części uzbrojenia husarza. Dobierz litery do nazw broni i otocz je kółkiem.

Koncerz	A	B	C	D	E	F
Skrzydła	A	B	C	D	E	F
Czekan	A	B	C	D	E	F
Tarcza	A	B	C	D	E	F
łuk	A	B	C	D	E	F
Szabla	A	B	C	D	E	F

Zadanie 2. Wykorzystując wiedzę z lektur, zakreśl kółkiem poprawne zakończenie zdań.

- A. Sultanka Turhan, kierująca państwem tureckim w imieniu małoletniego Mehmeda IV, powołała na urząd wielkiego wezyra
- a) Mehmeda paszę Köprülü.
 - b) Fazyla Mehmeda paszę.
 - c) Kara Mustafę paszę.
 - d) Abaza Hasana paszę.
- B. W 1661 r. wybuchła wojna austriacko-turecka spowodowana długotrwałym sporem o
- a) Kretę i Morze Egejskie.
 - b) Węgry i Siedmiogród.
 - c) Podole i Ukrainę.
 - d) Inflanty.
- C. Zwycięstwo pod Chocimiem, które zapewniło Janowi Sobieskiemu koronę polską, miało miejsce
- a) 28 sierpnia 1672 r.
 - b) 16 października 1672 r.
 - c) 11 listopada 1673 r.
 - d) 17 października 1676 r.
- D. Opisany słowami: *niepospolity ten pod każdym względem człowiek zdołał skoncentrować rozproszone po całych Węgrzech oddziały powstańcze, dotychczasową walkę podjazdową przekształcić w regularne wojsko ... to*
- a) Leopold I.
 - b) Jan Sobieski.
 - c) Emeryk Thököly.
 - d) Mikołaj Zrinyi.
- E. U boku króla Jana III Sobieskiego na odsiecz Wiednia szli hetmani
- a) Jan Karol Chodkiewicz i Stanisław Jabłonowski.
 - b) Stanisław Jabłonowski i Mikołaj Sieniawski.
 - c) Mikołaj Sieniawski i Stanisław Żółkiewski.
 - d) Stanisław Żółkiewski i Stanisław Jabłonowski.

Zadanie 3. Spośród wydarzeń oznaczonych literami A – F wybierz wydarzenie chronologicznie pierwsze i wydarzenie chronologicznie ostatnie. Zakreśl kółkiem odpowiednie litery w tabelce.

- A. wybór Jana Sobieskiego na króla Polski
- B. pokój z Turcją w Buczacz
- C. zwycięstwo Jana III Sobieskiego pod Wiedniem
- D. bitwa pod Parkanami
- E. śmierć Kara Mustafy
- F. poselstwo Jana Gnińskiego do Stambułu

Wydarzenie chronologicznie pierwsze	A	B	C	D	E	F
Wydarzenie chronologicznie ostatnie	A	B	C	D	E	F

Mapa do zadanie 4.



https://pl.m.wikipedia.org/wiki/Plik:Polska_..._i_zabory_-_mapa_lokalizacyjna.svg

Zadanie 4. Na podstawie mapy i wiedzy własnej wykonaj polecenie.

Zakreśl kółkiem literę, którą oznaczono prawidłowy tytuł mapy, i numer, którym oznaczono właściwe uzasadnienie dokonanego wyboru.

A.	Ziemie polskie w roku 1773,	ponieważ mapa przedstawia sytuację polityczną	1.	po trzecim rozbiore Polski.
B.	Ziemie polskie w roku 1795,		2.	w okresie istnienia Księstwa Warszawskiego.
C.	Ziemie polskie w roku 1809,		3.	po kongresie wiedeńskim.
D.	Ziemie polskie w roku 1816,		4.	po pierwszym rozbiore Polski.

Zadanie 5. Przeczytaj fragment utworu i wykonaj zadania A i B.

*Na to wszystko jedne głosy:
 Dosić tej niewoli,
 Mamy raclawickie kosy,
 Kościuszkę, Bóg pozwoli.*

A. Podaj imię i nazwisko autora tego utworu oraz pierwotny tytuł utworu

B. Utwór powstał w roku, czyli w II połowie wieku.

Zadanie 6. Podpisz portrety osób związanych z historią Legionów Polskich we Włoszech właściwymi imionami i nazwiskami.

źródło: Wikipedia



A B C

Zadanie 7. Wpisz do tabeli nazwy i daty wydarzeń historycznych (dzień, miesiąc, rok) związanych z okresem oświecenia, które upamiętniono w formie świąt państwowych.

Państwo, w którym obchodzone jest święto	Data	Wydarzenie
Polska		
Stany Zjednoczone Ameryki Północnej		
Francja		

Zdjęcie do zadania 8.




archiwum własne

Zadanie 8. Podkreśl poprawne zakończenie zdania A i B.

- A. Na fotografii znajduje się
- budynek parlamentu polskiego.
 - Belweder.
 - Teatr Wielki.
 - Zamek Królewski.
- B. W momencie wybuchu powstania listopadowego była tam
- zbrojownia miejska.
 - siedziba wielkiego księcia Konstantego.
 - Szkoła Podchorążych Piechoty.
 - słynna manufaktura porcelany.

Zadanie 9. Zaznacz X wszystkie informacje dotyczące postaci ze zdjęcia.



Zwolennik abolicjonizmu.	
Prezydent USA w latach 1861-1865.	
Główny inicjator zjednoczenia Włoch.	
Głównodowodzący wojskami Konfederacji.	
Przeciwnik niewolnictwa w USA.	
Zginął w bitwie pod Gettysburgiem.	

Źródło: Wikipedia

Zadanie 10. Na podstawie tekstu i wiedzy własnej wykonaj polecenie A i B.

Zaczął się to w największym skrócie, w 1876 roku, gdy Aleksander G. Bell, który pracował nad urządzeniem wzmacniającym słuch, opatentował swój wynalazek – telefon. Elisha Gray, który od początku próbował skonstruować telefon, złożył swój patent w kilka godzin po Bellu (...). W księdze historii przypadło mu więc miejsce w przypisach. W rok później Edison przypadkowo wynalazł fonograf i (...) myślał z początku, że będzie stosowany przede wszystkim do rejestrowania rozmów telefonicznych. Warto nadmienić, że rodzina Bellów od trzech pokoleń interesowała się rejestrowaniem słowa mówionego, a Aleksander G. Bell i jego brat Melville jako chłopcy próbowali skonstruować „mówiącą maszynę” wyposażoną w mechaniczny język, krtani i struny głosowe.

Paul Levinson, *Telefon. Zabawka, która ryknęła.*

A. Dlaczego za twórcę telefonu uważa się Aleksandra G. Bella?

.....

.....

B. Zapisz nazwę innego wynalazku (odkrycia), którego historia rozpoczyna się w drugiej połowie XIX wieku, oraz podaj imię i nazwisko jego konstruktora (wynalazcy).

.....

Zadanie 11. Zakreśl kółkiem wydarzenie, które stało się bezpośrednią przyczyną wybuchu I wojny światowej.

- A. brytyjsko-niemiecka rywalizacja o kolonie
- B. francusko-niemiecki spór o Alzację i Lotaryngię
- C. rywalizacja mocarstw na Płw. Bałkańskim
- D. zabójstwo następcy tronu Austro-Węgier w Sarajewie

Zadanie 12. Uzupełnij tekst, wpisując w miejsca wykropkowane brakujące informacje.

W r. wybuchła I wojna światowa. Działania wojenne toczyły się na kilku frontach. Pod koniec 1914 r. walki na zachodzie Europy przybrały charakter wojny Do jednej z najdłuższych i najkrwawszych bitew tej wojny doszło w 1916 roku pod, gdy Niemcy podjęli próbę przełamania frontu, aby uderzyć na Zmagania trwały kilka, ale nie przyniosły oczekiwanego przez Niemców rezultatu. Największą bitwą morską w I wojnie światowej była bitwa, która rozegrała się w r. Po tym starciu Niemcy ponownie ogłosili w r. nieograniczoną wojnę Była to jedna z przyczyn przystąpienia do wojny po stronie ententy, w kwietniu 1917 r.

Tekst do zadania 13.

(...) Nie mając dość sił na kontynuowanie wojny, bolszewicy byli zmuszeni przyjąć warunki. (...) podpisano (...) pokój, który oznaczał otwarcie ogromnych obszarów od Bałtyku do Morza Czarnego dla ekspansji niemieckiej i austro-węgierskiej w ramach planu zwanego „Mitteleuropa”. (...)

Wojciech Roszkowski; *Najnowsza Historia Polski 1914-1945*; Warszawa 2003

Zadanie 13. Na podstawie tekstu i wiedzy własnej wykonaj polecenia A, B i C.

- A. Zapisz rok podpisania pokoju, o którym mowa w tekście.

.....

- B. Jakie wydarzenie stało się główną przyczyną zawarcia pokoju przez bolszewików.

.....
.....

C. Zaznacz kółkiem na mapie miejsce zawarcia tego pokoju.

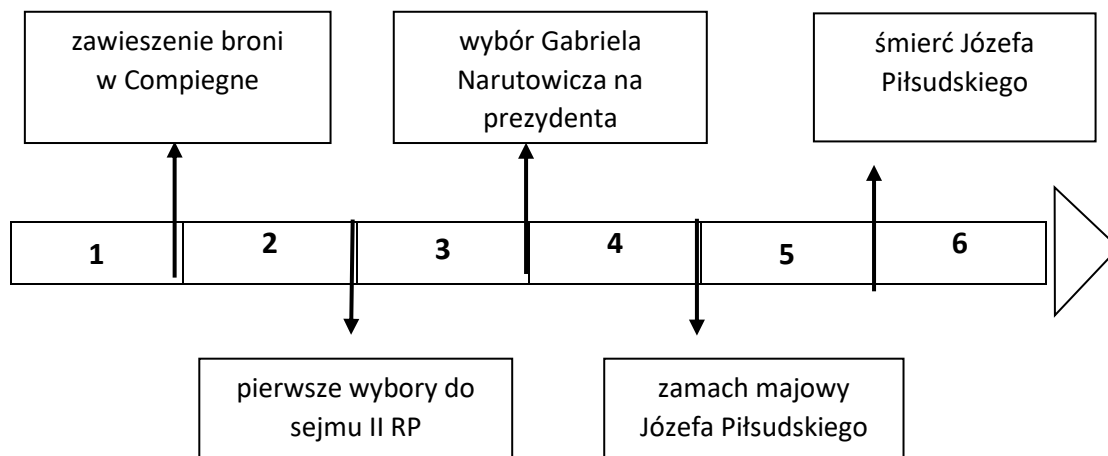


Źródło: Wikipedia

Ilustracja i taśma chronologiczna do zadania 14.



<https://www.sejm.gov.pl/KonstytucjaMarcowa.nsf/>



Zadanie 14. Podkreśl właściwe dokończenie zdania.

Znaczkę widoczną na zdjęciu zostały wydane dla upamiętnienia wydarzenia, które miało miejsce w okresie oznaczonym na taśmie chronologicznej numerem

- A. 1.
- B. 2.
- C. 3.
- D. 4.
- E. 5.
- F. 6.

Zadanie 15. Podaj nazwę podpisanego 23 VIII 1939 roku w Moskwie paktu o nieagresji pomiędzy ZSRR a III Rzeszą, do którego dołączony był tzw. tajny protokół dotyczący m.in. Polski.

.....

Zadanie 16. Połącz w pary miejsca bitew z nazwami jednostek wojskowych, które brały w nich udział. Odpowiedź zapisz za pomocą liter przypisanych jednostką wojskowym. Wykorzystaj wszystkie podane przykłady.

Bój pod Mokrą	—————→
Bitwa pod Kockiem	—————→
Bitwa nad Bzurą	—————→
Bitwa o Narwik	—————→
Bitwa o Monte Cassino	—————→

- A. 2 Korpus Polski
- B. Samodzielna Brygada Strzelców Podhalańskich
- C. Armia „Poznań”
- D. Samodzielna Grupa Operacyjna „Polesie”
- E. Wołyńska Brygada Kawalerii

Zadanie 17. Wykorzystując cyfry 1-6, uporządkuj chronologicznie wydarzenia z czasów II wojny światowej, zaczynając od najdawniejszego.

	Powstanie w getcie warszawskim.
	Kapitulacja Warszawy.
	Początek bitwy o Anglię.
	Konferencja w Teheranie.
	Początek bitwy pod Stalingradem.
	Kapitulacja Japonii.

Zadanie 18. Którą rocznicę wybuchu powstania w getcie warszawskim będziemy obchodzić 19.04.2024 roku? Odpowiedź zapisz pełnym zdaniem.

.....

.....

Ilustracja do zadania 19.



<https://dzieje.pl/aktualnosci/40-lat-temu-zakoczyla-sie-pierwsza-pielgrzymka-jana-pawla-ii-do-polski>

Zadanie 19. Przeanalizuj fotografię dotyczącą I pielgrzymki Jana Pawła II do Polski w 1979 roku, a następnie podaj imię i nazwisko osoby duchownej stojącej obok papieża.

.....