

PYTANIA NA ETAP REJONOWY

Lubuski Konkurs BwRD

20.03.2019

Zasady udzielania odpowiedzi

- 1) Piszemy czytelnym pismem - najlepiej technicznym.
- 2) Wpisujemy nazwisko, imię, miejscowość i nr swojej szkoły, jeżeli jest, oraz klasę.
- 3) Odpowiadamy wyłącznie na tej karcie odpowiedzi zaznaczając X długopisem - nie czerwonym.
- 4) Na każde pytanie jest jedna odpowiedź.
- 5) Nie wolno robić błędów i poprawiać odpowiedzi. Za poprawioną odpowiedź jest 0 punktów.
- 6) Nie spieszmy się – ustalamy zasady komunikacji przy przechodzeniu do kolejnych slajdów.

Zasady udzielania odpowiedzi

- 7) W trakcie można pytać, po podniesieniu ręki i udzieleniu głosu.
- 8) Siedzicie obok siebie, nie zaglądalejcie do sąsiada, bo on może robić błędy. Ty jesteś najlepszy.
- 9) Za porozumiewanie się w jakiegokolwiek formie dyskwalifikujemy ucznia.
- 10) Sprawdzamy gdzie siedzą uczniowie z tych samych szkół i przesadzamy.
- 11) Czy każdy widzi ekran?
- 12) Czy są pytania?

1. Do jazdy rowerem po drogach publicznych osobę w wieku 11 lat upoważnia:

- a) karta rowerowa,
- b) pisemna zgoda rodziców,
- c) zgoda wychowawcy podczas wycieczki klasowej.

2. Kierujący rowerem przed rozpoczęciem jazdy:

- a) powinien sprawdzić, czy poprawnie działa hamulec,
- b) powinien sprawdzić ustawienie lusterka bocznego,
- c) może jechać bez uprzedniego sprawdzenia stanu technicznego roweru.

3. Czerwone światło pozycyjne z tyłu roweru:

- a) może być migające,
- b) może być odblaskowe,
- c) powinno być widoczne z odległości minimum 1 km.

4. Nie należą do obowiązkowego wyposażenia w rowerze:

- a) światła odblaskowe z boku roweru,
- b) dzwonek lub sygnał o nieprzeraźliwym dźwięku,
- c) jeden sprawnie działający hamulec.

5. Rowerzysta ma obowiązek włączenia świateł przy rowerze podczas:

- a) jazdy poza terenem zabudowanym,
- b) jazdy w tunelu,
- c) jazdy w kolumnie

6. Kierującemu rowerem zabrania się:

- a) wyprzedzania innych pojazdów,
- b) jazdy obok innego rowerzysty,
- c) jazdy bez trzymania co najmniej jednej ręki na kierownicy.

7. Liczba rowerów jednośladowych jadących w zorganizowanej kolumnie nie może przekraczać:

- a) 15 rowerów,
- b) 10 rowerów,
- c) 5 rowerów.

8. Śluza rowerowa to:

- a) część drogi przeznaczona do ruchu rowerów, oddzielona konstrukcyjnie,
- b) część jezdni na wjeździe na skrzyżowanie przeznaczona do zatrzymania rowerów w celu zmiany kierunku jazdy lub ustąpienia pierwszeństwa przejazdu,
- c) część jezdni przeznaczona do ruchu rowerów w jednym kierunku, oznaczona odpowiednimi znakami drogowymi.

9. Nie wolno wyprzedzać:

- a) na skrzyżowaniach typu rondo,
- b) na przejazdach kolejowych i tramwajowych oraz bezpośrednio przed nimi,
- c) na wszystkich skrzyżowaniach dróg i bezpośrednio przed nimi.

10. Przejeżdżając obok stojącego na przystanku autobusu komunikacji miejskiej należy:

- a) obowiązkowo zatrzymać się,
- b) ograniczyć prędkość i być przygotowanym do zatrzymania się,
- c) kontynuować jazdę bez względu na sytuację

11.Pieszy idący w strefie zamieszkania:

- a) ma pierwszeństwo przed pojazdami i może korzystać z całej szerokości drogi,
- b) musi ustępować miejsca samochodom,
- c) musi iść możliwie blisko lewej strony drogi.

12. Jadąc rowerem przez plac, na którym nie wyodrębniono chodnika i ruch pojazdów oraz pieszych odbywa się po tej samej powierzchni:

- a) rowerzysta ma pierwszeństwo przed pieszymi,
- b) rowerzysta powinien jechać powoli i ustępować pierwszeństwa pieszym,
- c) pierwszeństwo nie zostało określone przepisami

13.Rowerzysta może przejechać przez skrzyżowanie z sygnalizacją świetlną, na którym policjant kieruje ruchem, jeżeli:

- a) zapali się zielony sygnał do jego kierunku ruchu,
- b) policjant da sygnał przejazdu dla kierunku ruchu rowerzysty,
- c) znajduje się na drodze oznaczonej jako droga z pierwszeństwem przejazdu.

14.Rowerzysta może kierować w strefie zamieszkania rowerem nie przekraczając prędkości:

- a) 50 km/godz.,
- b) 20 km/godz.,
- c) przepisy nie określają prędkości rowerów w strefie zamieszkania.

15. Włączając się do ruchu, rowerzysta jest zobowiązany ustąpić pierwszeństwa:

- a) tylko kierującym pojazdami,
- b) wszystkim uczestnikom ruchu,
- c) tylko pieszym oraz pojazdom nadjeżdżającym z prawej strony.

16. Rowerzysta jadący po jezdni, którą jedzie pojazd uprzywilejowany powinien:

- a) zawsze się zatrzymać,
- b) zawsze zjechać do lewej krawędzi jezdni,
- c) niezwłocznie usunąć się z jego drogi, a w razie potrzeby zatrzymać się.

17.Kierujący rowerem zbliżając się do skrzyżowania dróg równorzędnych ma obowiązek:

- a) zachować szczególną ostrożność i ustąpić pierwszeństwa nadjeżdżającym z prawej strony, a pojazdom szynowym i uprzywilejowanym będącym w akcji niezależnie od tego, z której strony nadjeżdżają,
- b) zachować szczególną ostrożność i ustąpić pierwszeństwa tylko pojazdom szynowym i uprzywilejowanym,
- c) zachować szczególną ostrożność i ustąpić pierwszeństwa pojazdom nadjeżdżającym z lewej strony, a także pojazdom szynowym i uprzywilejowanym.

18. Jeżeli na drodze obok białych linii poziomych znajdują się żółte, to kierujący rowerem zobowiązany jest do stosowania się:

- a) do znaków poziomych linii białych i żółtych,
- b) do znaków poziomych linii żółtych,
- c) do znaków poziomych linii białych.

19. Widząc tramwaj wyjeżdżający z pętli tramwajowej, po prawej stronie drogi, rowerzysta:

- a) musi zawsze ustąpić pierwszeństwa pojazdowi szynowemu,
- b) ma zawsze przed nim pierwszeństwo, bo tramwaj włącza się do ruchu,
- c) ustępuje pierwszeństwa jeżeli tramwaj jedzie z jego prawej strony.

20.Rowerzyści mogą wyprzedzać samochody z ich prawej strony:

- a) nigdy, w żadnym wypadku,
- b) zawsze, kiedy tylko jest taka możliwość,
- c) kiedy samochody wolno jadą w korku.

21. Dojeżdżając do przejazdu kolejowego oznaczonego jako przejazd z zaporami, kierujący:

- a) nie ma obowiązku upewniania się, czy nadjeżdża pociąg – od tego jest dróżnik,
- b) powinien zachować szczególną ostrożność,
- c) powinien obserwować tylko prawą stronę drogi.

22. Widząc dwa na przemian migające czerwone sygnały przed przejazdem kolejowym, kierujący pojazdem:

- a) powinien zatrzymać pojazd,
- b) może przejechać przez przejazd, jeżeli upewni się, że nie zbliża się pociąg,
- c) musi zasygnalizować zamiar przekroczenia torowiska.

23. Widząc dwa na przemian migające czerwone sygnały przed przejazdem i otwarte zapory, kierujący pojazdem powinien:

- a) zatrzymać się przed sygnalizatorem,
- b) zatrzymać się w odległości minimum 15m przed sygnalizatorem,
- c) może przejechać, migające światła oznaczają uszkodzenie sygnalizacji.

24. Przedstawiony znak ostrzega:

- A. o miejscu na drodze szczególnie uczęszczanym przez dzieci,
- B. o przejściu dla pieszych,
- C. ostrzega o miejscu, w którym także rowerzyści mogą przejeżdżać przez jezdnię.



25. Ten znak oznacza, że:

- A. poruszasz się drogą podporządkowaną,
- B. w każdym przypadku masz obowiązek zatrzymania się przed drogą z pierwszeństwem przejazdu,
- C. poruszasz się drogą z pierwszeństwem przejazdu.



26.Znak ten ostrzega rowerzystę o:

- A. przejeździe kolejowym z zaporami,
- B. przejeździe kolejowym bez zapor,
- C. ogrodzeniu leśnym.




27. Widząc ten znak rowerzysta:

- A. powinien przepuścić wszystkie pojazdy jadące z przeciwka,
- B. powinien zasygnalizować zmianę pasa ruchu,
- C. powinien bezwzględnie zatrzymać się.



28.Znak ten oznacza:

- A. droga jest zamknięta dla ruchu,
- B. na drogę nie można wjechać tylko od strony umieszczenia znaku,
- C. zakaz ruchu dotyczy tylko pojazdów.




29. Rowerzysta widząc ten znak drogowy:

- A. musi zatrzymać rower przed znakiem,
- B. jest informowany, że dojeżdża do drogi z pierwszeństwem,
- C. może nie zatrzymywać się, jeżeli po drodze głównej nie poruszają się inne pojazdy.



30. Widząc ten znak, kierujący rowerem:

- A. może kontynuować jazdę niezależnie od szerokości pojazdu nadjeżdżającego z przeciwka,
- B. może jechać dalej, jeżeli istnieje możliwość bezpiecznego przejazdu obok pojazdu jadącego z przeciwka,
- C. powinien zawsze zatrzymać się jeżeli z przeciwka zbliża się pojazd.



31.Znak ten:

- A. zezwala zatrzymać się do jednej minuty,
- B. zabrania zatrzymywania się,
- C. odwołuje zakaz postoju.



32.W którym kierunku może jechać rowerzysta, jeżeli na drodze znajduje się ten znak:

- a) w prawo lub w lewo, skręcając za znakiem,
- b) w prawo a potem w lewo, skręcając za znakiem,
- c) w prawo lub w lewo, skręcając przed znakiem.



33.Rowerzysta, widząc ten znak:

- A. musi skręcić w prawo przed znakiem,
- B. może jechać na wprost lub skręcić w lewo,
- C. musi skręcić w prawo za znakiem.



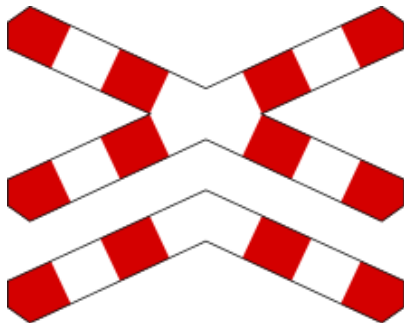
34.Znak ten oznacza:

- A. początek drogi dwujezdniowej,
- B. zakaz wjazdu na lewą jezdnię,
- C. masz pierwszeństwo wjazdu na zwężony odcinek drogi.



35. Widząc ten znak na drodze, kierujący rowerem zbliża się:

- A. do przejazdu kolejowego z zaporami,
- B. do przejazdu kolejowego wielotorowego,
- C. do przejazdu kolejowego jednotorowego.



36.Znak ten:

- a) oznacza zakaz wjazdu na skrzyżowanie bez zatrzymania się przed drogą z pierwszeństwem,
- b) zezwala na wjazd na skrzyżowanie bez zatrzymania, jeżeli drogą z pierwszeństwem nie poruszają się inne pojazdy,
- c) wskazuje miejsce bezwarunkowego zatrzymania.



37.Znak ten oznacza:

- A. powierzchnię drogi, na którą wjazd i zatrzymanie są zabronione,
- B. wyznacza miejsce parkingowe,
- C. wskazuje miejsce zatrzymania pojazdu.



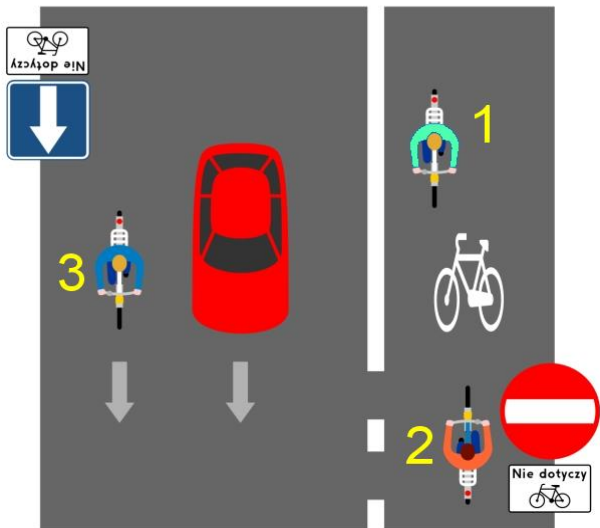
38.Znak ten oznacza:

- a) szlak rowerowy krajowy,
- b) ścieżkę (drogę) dla rowerów,
- c) zakaz wjazdu rowerów na teren rezerwatu przyrody.



39. W tej sytuacji, nieprawidłowo porusza się kierujący rowerem nr:

- A. 1,
- B. 2,
- C. 3.



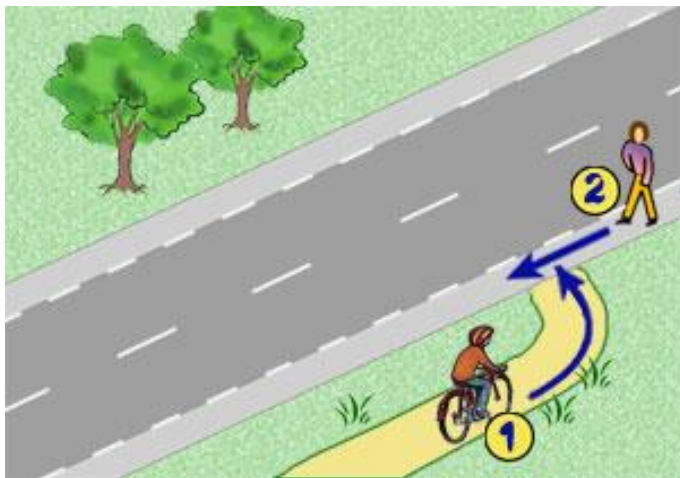
40. W przedstawionej sytuacji kierujący rowerem, zamierzając jechać na wprost:

- A. nie może wjechać na skrzyżowanie,
- B. może wjechać na skrzyżowanie i zatrzymać się za poprzedzającym pojazdem,
- C. może zatrzymać się tuż za przejściem dla pieszych.



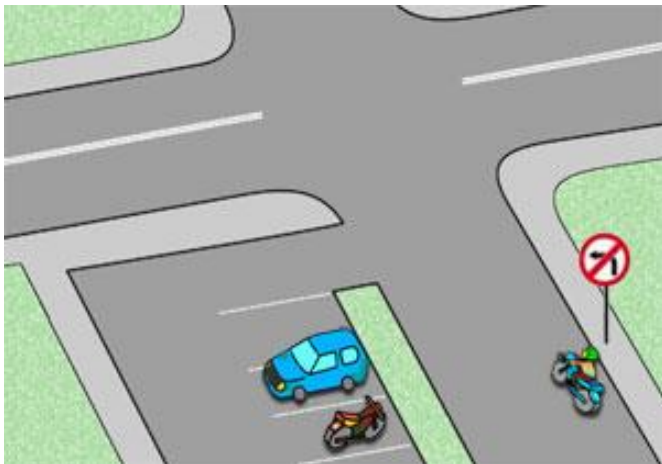
41. W tej sytuacji rowerzysta:

- A. może wjechać na jezdnię przed pieszym,
- B. ustępuje pierwszeństwa pieszemu,
- C. ma pierwszeństwo przed pieszym.



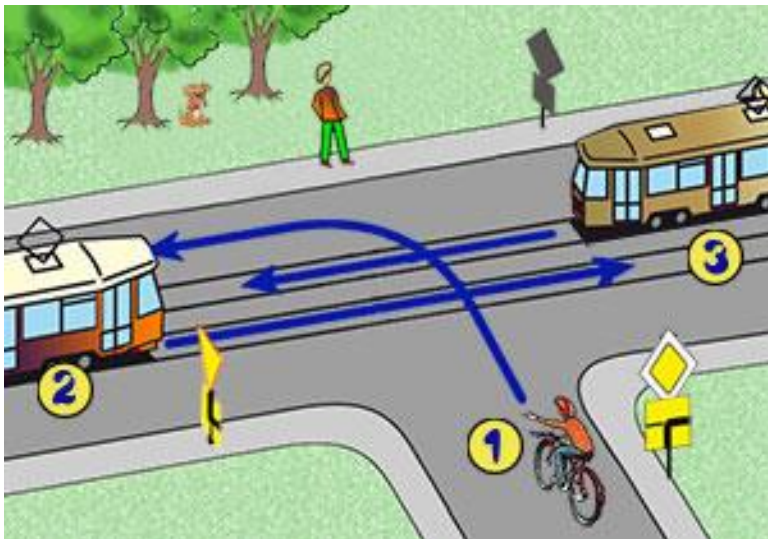
42.W takiej sytuacji motorowierzysta:

- A. po minięciu znaku ma całkowity zakaz skrętu w lewo,
- B. może skręcić na parking,
- C. nie może zawrócić od miejsca ustawienia znaku do skrzyżowania włącznie.



43. Na tym skrzyżowaniu rowerzysta:

- A. pojedzie ostatni,
- B. pojedzie pierwszy,
- C. jedzie drugi.



44. W tej sytuacji rowerzysta:

- A. ma pierwszeństwo przed pojazdami z prawej strony,
- B. włącza się do ruchu,
- C. ma pierwszeństwo przed samochodem z lewej strony.



45. Który pojazd opuści to skrzyżowanie jako ostatni:

- A. samochód z prawej strony,
- B. pojazd uprzywilejowany,
- C. rowerzysta.
(uwaga Policja w akcji)



46. W tej sytuacji rowerzysta:

- A. ustępuje pierwszeństwa pojazdowi uprzywilejowanemu,
- B. przejeżdża ostatni,
- C. ustępuje pierwszeństwa pojazdowi z lewej strony. (uwaga Straż Pożarna w akcji)



47. W tej sytuacji rowerzysta:

- A. ustępuje pierwszeństwa pojazdowi z lewej strony,
- B. przejeżdża pierwszy,
- C. nie ma pierwszeństwa przed pojazdem z prawej strony.



48. W tej sytuacji rowerzysta skręcający w lewo:

- A. ma pierwszeństwo przed rowerzystą na przejeździe,
- B. przejeżdża pierwszy,
- C. ustępuje pierwszeństwa rowerzyście na przejeździe.



49. Podaj prawidłową kolejność przejazdu przez to skrzyżowanie:

- A. rowerzysta - pojazd uprzywilejowany - pojazd z prawej strony,
- B. pojazd uprzywilejowany - pojazd z prawej strony - rowerzysta,
- C. pojazd uprzywilejowany - rowerzysta - pojazd z prawej strony. (uwaga Policja w akcji)



50. Który pojazd opuści to skrzyżowanie jako pierwszy?

- A. samochód z prawej strony,
- B. samochód z lewej strony,
- C. rowerzysta jadący w lewo.

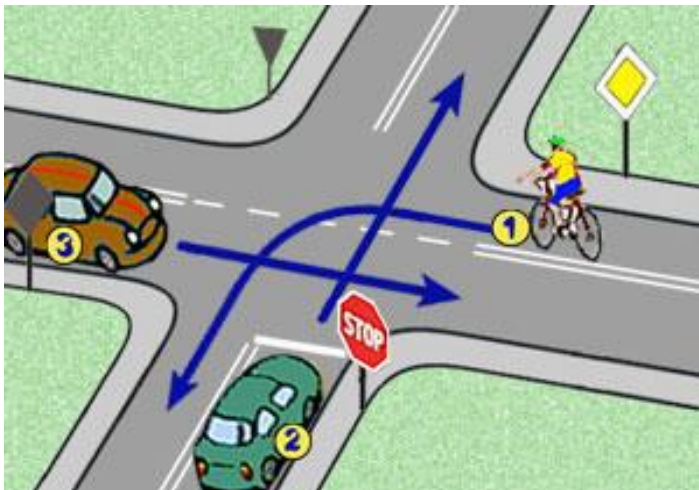


51. W tej sytuacji rowerzysta:

A. pojedzie pierwszy,

B. ustępuje pierwszeństw
a pojazdowi 3,

C. ustępuje pierwszeństw
a pojazdowi 2.

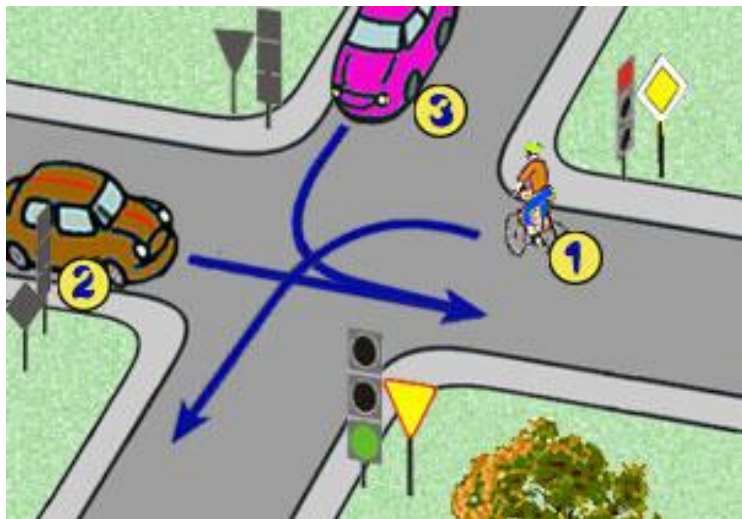


52. W tej sytuacji kolejność przejazdu jest następująca:

A. 3-2-1,

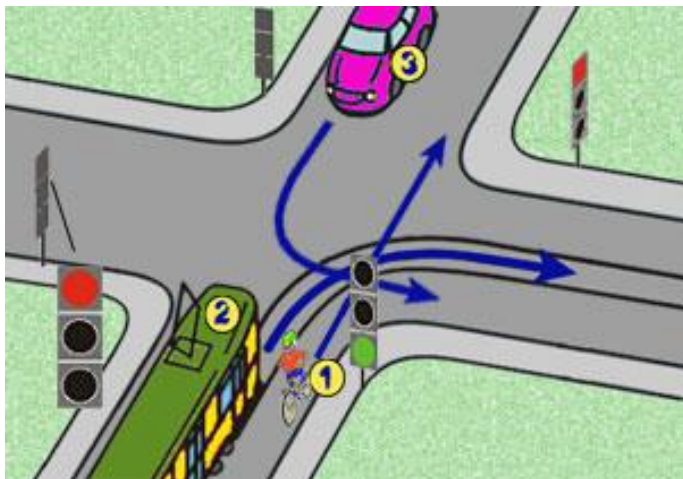
B. 2-1-3,

C. 3-1-2.



53. W tej sytuacji rowerzysta:

- A. pojedzie pierwszy,
- B. ustępuje pierwszeństwa pojazdowi 2,
- C. ustępuje pierwszeństwa pojazdowi 3.



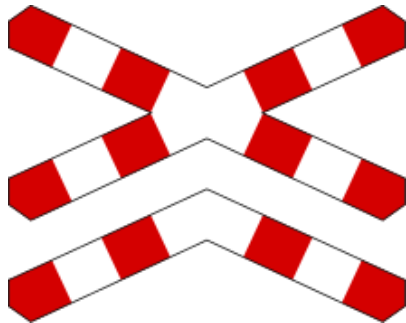
54. Widząc znak B-20 "STOP" znajdujący się przed przejazdem kolejowym z otwartymi zaporami kierujący pojazdem:

- A. może zatrzymać się ale nie musi,
- B. musi zatrzymać się w każdym przypadku,
- C. może przejechać swobodnie.



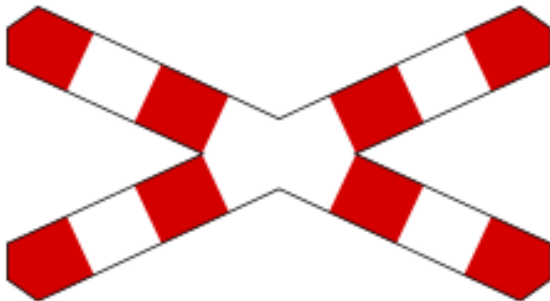
55.Co powinien zrobić kierujący pojazdem widząc znak G-3 lub G-4 („krzyż św. Andrzeja”)

- A. zatrzymać się przy tym znaku jeśli zbliża się pociąg,
- B. zatrzymać się w odległości minimum 10 m przed znakiem,
- C. zatrzymać się tuż przed zaporami.



56. Czy po przejechaniu pociągu przez tak oznakowany przejazd kolejowy, kierujący:

- A. może kontynuować jazdę po upewnieniu się, czy nie nadjeżdża kolejny pociąg,
- B. może spodziewać się pociągu jadącego w przeciwnym kierunku,
- C. nie musi upewniać się, czy nadjeżdża kolejny pociąg.



57. Na przystanku autobusowym leży na brzuchu mężczyzna w wieku ok. 55 lat. Brak dostępu do twarzy. Co robisz w pierwszej kolejności?

- A. wzywasz policję i zespół Ratownictwa Medycznego,
- B. układasz go w pozycji bocznej ustalonej i sprawdzasz oznaki życia,
- C. układasz go na wznak i sprawdzasz oznaki życia.

58. Brak oddechu u nieprzytomnego dorosłego stanowi podstawę do podjęcia resuscytacji w schemacie:

- A. 2 wdechy, 30 uciśnień kl. piersiowej,
- B. 30 uciśnień kl. piersiowej, 2 wdechy,
- C. dowolnym z wymienionych.

59. Spośród niżej wymienionych czynności ratowniczych, wskaż pierwszą czynność jaką wykonasz u osoby nieprzytomnej:

- A. opatrzenie rany oparzeniowej,
- B. udrożnienie dróg oddechowych,
- C. unieruchomienie złamanej kończyny.

60. W krwotoku tętnicznym przedramienia, który nie zmniejsza się po rutynowym zaopatrzeniu opatrunkiem uciskowym, należy rozważyć następujące postępowanie:

- A. zdjęcie już założonego opatrunku i ponowne założenie grubszego opatrunku,
- B. wzmocnienie ucisku poprzez owinięcie opatrunku dodatkowymi zwojami bandaża,
- C. założenie opaski zaciskowej / uciskowej na przedramieniu,