



KOD UCZNIĄ

KONKURS PRZEDMIOTOWY Z GEOGRAFII DLA UCZNIÓW SZKÓŁ PODSTAWOWYCH

ETAP WOJEWÓDZKI

11 marca 2019 r.

Ważne informacje

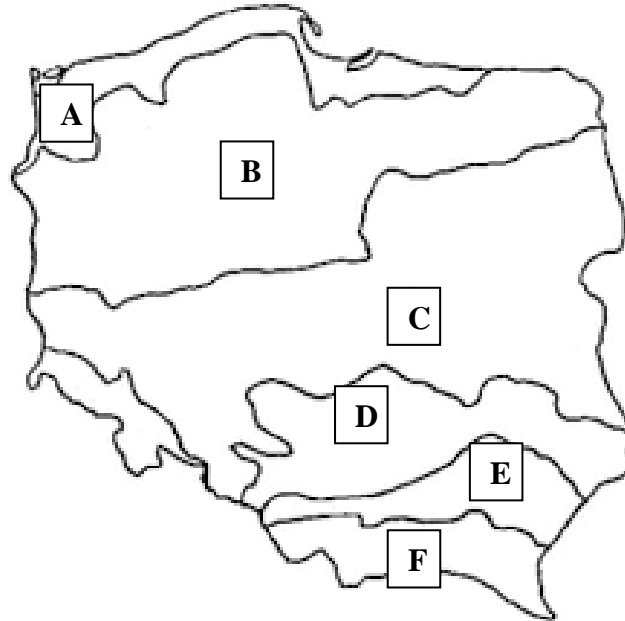
1. Test składa się z **25** zadań. Masz **90 minut** na ich rozwiązanie. Możesz zdobyć **40** pkt.
2. Zapisz szczegółowe obliczenia. Możesz korzystać z kalkulatora i linijki.
3. Pisz długopisem lub piórem, nie używaj ołówka ani korektora. Jeżeli się pomylisz, przekreśl błąd i napisz ponownie odpowiedź lub zaznacz inną.
4. Pisz czytelnie i zamieszczaj odpowiedzi w miejscach na to przeznaczonych. Pamiętaj, że zapisy w brudnopisie nie podlegają ocenie.
5. Pracuj samodzielnie, korzystając z własnej wiedzy i umiejętności!

Życzymy powodzenia!

Maksymalna liczba punktów	40	100%
Uzyskana liczba punktów		
Podpis osoby sprawdzającej		

Zadanie 1.**(0 – 3 p.)**

Na mapie zaznaczono literami A – F pasy krajobrazowe Polski. Do zamieszczonych w tabeli symboli pasów przyporządkuj nazwy własne tych regionów, w których one leżą. Skorzystaj z wszystkich nazw podanych w ramce.

Źródło: www.edukacja.andrychow.eu

Tatry	Pojezierze Mazurskie	Nizina Mazowiecka	Bieszczady
Besкиды	Żuławy Wiślane	Kotlina Sandomierska	Wyżyna Lubelska
Roztocze	Pojezierze Wielkopolskie	Nizina Szczecińska	Nizina Podlaska

Pas krajobrazowy	Nazwy regionów geograficznych
A	
B	
C	
D	
E	
F	

Zadanie 2.**(0 – 1 p.)**

Zaznacz największą ze skal wymienionych poniżej.

- a) 1 cm → 100 m
- b) 1 cm → 1000 m
- c) 1 dm → 100000 m

Zadanie 3.**(0 – 1 p.)**

Jaką rzeczywistą powierzchnię ma jezioro, jeśli jego obraz na mapie w skali 1: 200 000 ma 2cm²?

Zapisz obliczenia.

Rzeczywista powierzchnia jeziora:.....

Zadanie 4.**(0 – 2 p.)**

Pies przez 44 minuty, ponieważ jego pan zapomniał zabrać go na spacer, a na dodatek zamknął samego w mieszkaniu w Niebądzinie [52°15'N, 15°32'E]. Oblicz o jaki kąt obróciła się Ziemia podczas wycia psa. Wynik podaj w stopniach.

Zapisz obliczenia.

Odpowiedź:

Zadanie 5.**(0 – 2 p.)**

Oceń prawdziwość podanych zdań. Zaznacz P, jeśli zdanie jest prawdziwe, albo F, jeśli zdanie jest fałszywe.

W Olsztynie Słońce wschodzi wcześniej niż w Szczecinie.	P	F
W lecie Słońce góruje w Szczecinie wyżej niż we Wrocławiu.	P	F
Większa część terytorium Polski leży w strefie czasu środkowoeuropejskiego.	P	F
W zimie w Gdańsku dzień jest krótszy niż w Krakowie.	P	F

Zadanie 6.**(0 – 1 p.)**

Podkreśl poprawne zdania dotyczące Morza Bałtyckiego.

- A. Najdalej na północ wysuniętym akwenem Morza Bałtyckiego jest Zatoka Botnicka.
- B. Najdalej na wschód wysuniętym akwenem Morza Bałtyckiego jest Zatoka Ryska.
- C. Zasołenie Bałtyku wynosi około 10 %.
- D. Wyspa Wolin należy całkowicie do Polski.

Zadanie 7.**(0 – 2 p.)****Dokończ zdania, wybierając A albo B i 1. albo 2.**

a) Rzeki Azji spływają do

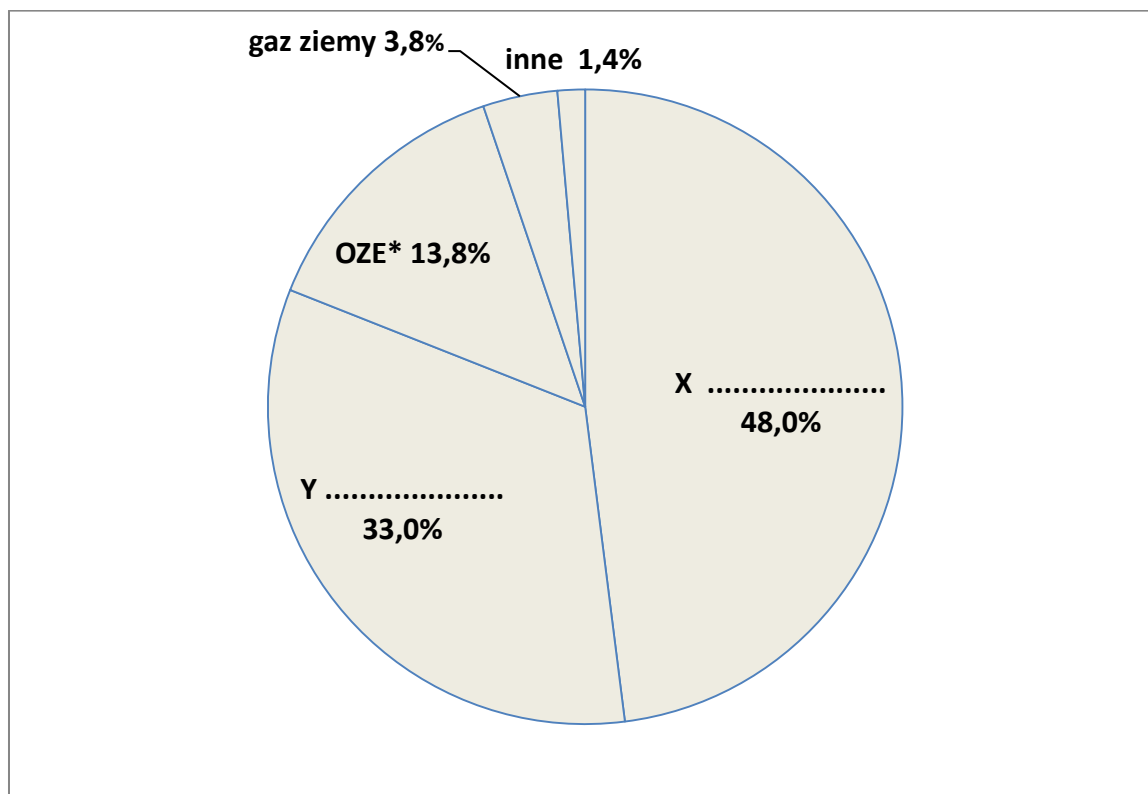
A.	dwóch oceanów.	Najdłuższą z nich jest	1.	Huang He.
B.	trzech oceanów.		2.	Jangcy.

b) Bajkał to najgłębsze jezioro świata położone

A.	całkowicie na terytorium Rosji.	Jego wody są	1.	słone.
B.	na granicy rosyjsko-chińskiej.		2.	słodkie.

Zadanie 8.**(0 – 1 p.)**

Zamieszczony poniżej diagram przedstawia strukturę produkcji energii elektrycznej w Polsce wg źródeł z 2015 r. Uzupełnij rysunek, wpisując, w miejsca zaznaczone literami X i Y, nazwy surowców energetycznych.



*OZE odnawialne źródła energii

Zadanie 9.

(0 – 1 p.)

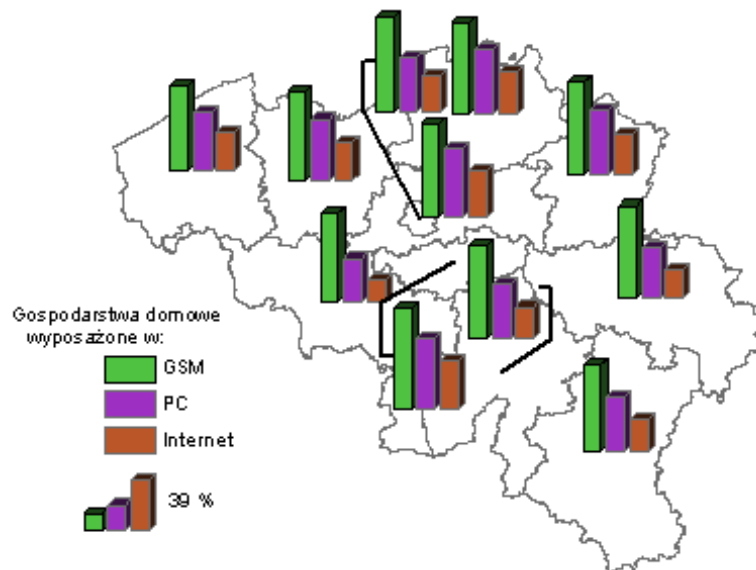
Podkreśl te państwa, które leżą w Azji.

Egipt, Laos, Sri Lanka, Gwinea, Mali, Lesoto, Gabon, Mozambik

Zadanie 10.

(0 – 1 p.)

Jaką metodę prezentacji kartograficznej zastosowano na mapie przedstawiającej wyposażenie gospodarstw domowych?



Metoda:

Zadanie 11.

(0 – 2 p.)

Ułóż ciąg przyczynowo-skutkowy kształtowania się rzeźby powierzchni Polski.

- A – sfałdowanie Karpat
- B – ukształtowanie się Żuław Wiślanych
- C – powstanie Gór Świętokrzyskich
- D – nasunięcie się lądolodu skandynawskiego
- E – powstanie Morza Bałtyckiego

Wydarzenie najstarsze

Wydarzenie najmłodsze



Zadanie 12.**(0 – 2 p.)**

Oceń prawdziwość podanych zdań. Zaznacz P, jeśli zdanie jest prawdziwe, albo F, jeśli zdanie jest fałszywe.

Bory to lasy, w których dominują drzewa liściaste.	P	F
Dominującym gatunkiem drzewa w polskich lasach jest sosna.	P	F
Wskaźnik lesistości Polski wynosi około 30%.	P	F
Parków krajobrazowych jest w Polsce więcej niż rezerwatów przyrody.	P	F

Zadanie 13.**(0 – 1 p.)**

Uszereguj wyspy Azji od położonej najdalej na północ (N) do położonej najdalej na południe (S).

N

Honsiu, Sachalin, Tajwan, Cejlon, Jawa

-

-

-

-

-

S

Zadanie 14.**(0 – 2 p.)**

Wśród wymienionych nazw parków narodowych tylko cztery są prawdziwe. Wybierz i zapisz tylko te, które faktycznie istnieją.

Parki do wyboru:

Mazurski PN, Świętokrzyski PN, Poleski PN, Podkarpacki PN, Sudecki PN, Bieszczadzki PN, Beskidzki PN, Biebrzański PN, Bobrzański PN, Nadbużański PN, PN „Żuławy Wiślane”, PN „Ujście Wisły”.

a)

b)

c)

d)

Zadanie 15.

(0 – 1 p.)

Podkreśl literę A lub B w trzeciej kolumnie tabeli tak, aby termin pasował do wyjaśnienia w drugiej kolumnie.

Lp.	Wyjaśnienie	Termin
1	Gorący, płynny stop materii skalnej wraz z rozpuszczonymi w niej gazami znajdującymi się w głębi Ziemi to	A magma. B lawa.
2	Ognisko trzęsienia ziemi nazywane jest	A hipocentrum. B epicentrum.

Zadanie 16.

(0 – 2 p.)

Skreśl w podanych zdaniach fałszywe informacje dotyczące wybranych zagadnień społecznych.

- a) Święta księga islamu to **Tora / Koran**.
- b) Największym ośrodkiem kinematografii na wschodniej półkuli jest **Bollywood / Hollywood**.
- c) Kung-fu to tradycyjna **chińska / japońska** sztuka walki.
- d) Więcej niepodległych państw znajduje się w **Azji / Afryce**.

Zadanie 17.

(0 – 1 p.)

Wieloletnia uprawa jednego rodzaju rośliny na tym samym obszarze nazywana jest uprawą

- a) odłogową.
- b) monokulturową.
- c) polikulturową.
- d) żarową.

Zadanie 18.**(0 – 1 p.)**

W 1988 roku „błękitne helmy” otrzymały Pokojową Nagrodę Nobla. Jak należy wyjaśnić pojęcie „błękitne helmy”?

Odpowiedź:.....

Zadanie 19.**(0 – 2 p.)**

Na podstawie danych w tabelce oblicz rozciągłość południkową i równoleżnikową Europy. Zapisz obliczenia.

Lp.	Współrzędne geograficzne skrajnych punktów Europy	Nazwa skrajnego punktu
1.	71° 08' N 27° 39' E	Przylądek Nordkinn
2.	38° 47' N 9° 30' W	Przylądek Roca
3.	36° 00' N 5° 36' W	Przylądek Marroquí
4.	68° 10' N 68° 15' E	Ujście rzeki Bajdaraty

Rozciągłość południkowa Europy:

Rozciągłość równoleżnikowa Europy:

Zadanie 20.**(0 – 2 p.)**

Uzupełnij zdania właściwymi terminami.

- Większość terytorium Indii położona jest na Półwyspie.....
- Największą wyspą Japonii jest wyspa
- Większość mieszkańców Bliskiego Wschodu wyznaje

Zadanie 21.**(0 – 1 p.)**

Dokończ poprawnie zdanie, zaznaczając dwie odpowiedzi.

Bryza, to wiatr wiejący nad morzem,

- w dzień od plaży do morza.
- w dzień od morza do plaży.
- w nocy od morza do plaży.
- w nocy od plaży do morza.

Zadanie 22.**(0 – 3 p.)****Zaznacz znakiem X zdania poprawnie charakteryzujące różne zjawiska geograficzne.**

Lp.	Zdania	Odpowiedź
1.	Halny to zimny i porywisty wiatr wiejący w Karpatach.	
2.	Pustynia Błędowska leży w Kotlinie Sandomierskiej.	
3.	Pradolina Toruńsko-Eberswaldzka powstała w erze kenozoicznej.	
4.	Ponad 50% ludności Polski mieszka w miastach.	
5.	Większość polskich gospodarstw rolnych (około 70%) to własność rolna Skarbu Państwa.	
6.	W wyniku zmian gospodarczych rozpoczętych w 1989 roku nastąpił w Polsce proces restrukturyzacji przemysłu.	

Zadanie 23.**(0 – 2 p.)****Uzupełnij tabelę, wpisując we właściwych miejscach nazwy państw, wybierając je spośród podanych.***Japonia, Chiny, Indie*

Lp.	Cecha charakterystyczna	Nazwa państwa
1.	Na terenie tego państwa znajduje się pustynia Gobi.	
2.	Walutą tego państwa jest rupia.	
3.	Z trzech wymienionych państw sięga najdalej na wschód.	
4.	Powierzchnia tego państwa jest około 10 razy większa od powierzchni Polski.	

Zadanie 24.**(0 – 1 p.)****Wyjaśnij, którą grupę Polaków określa się mianem *Polonia*.**

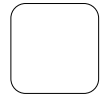
.....

.....

.....

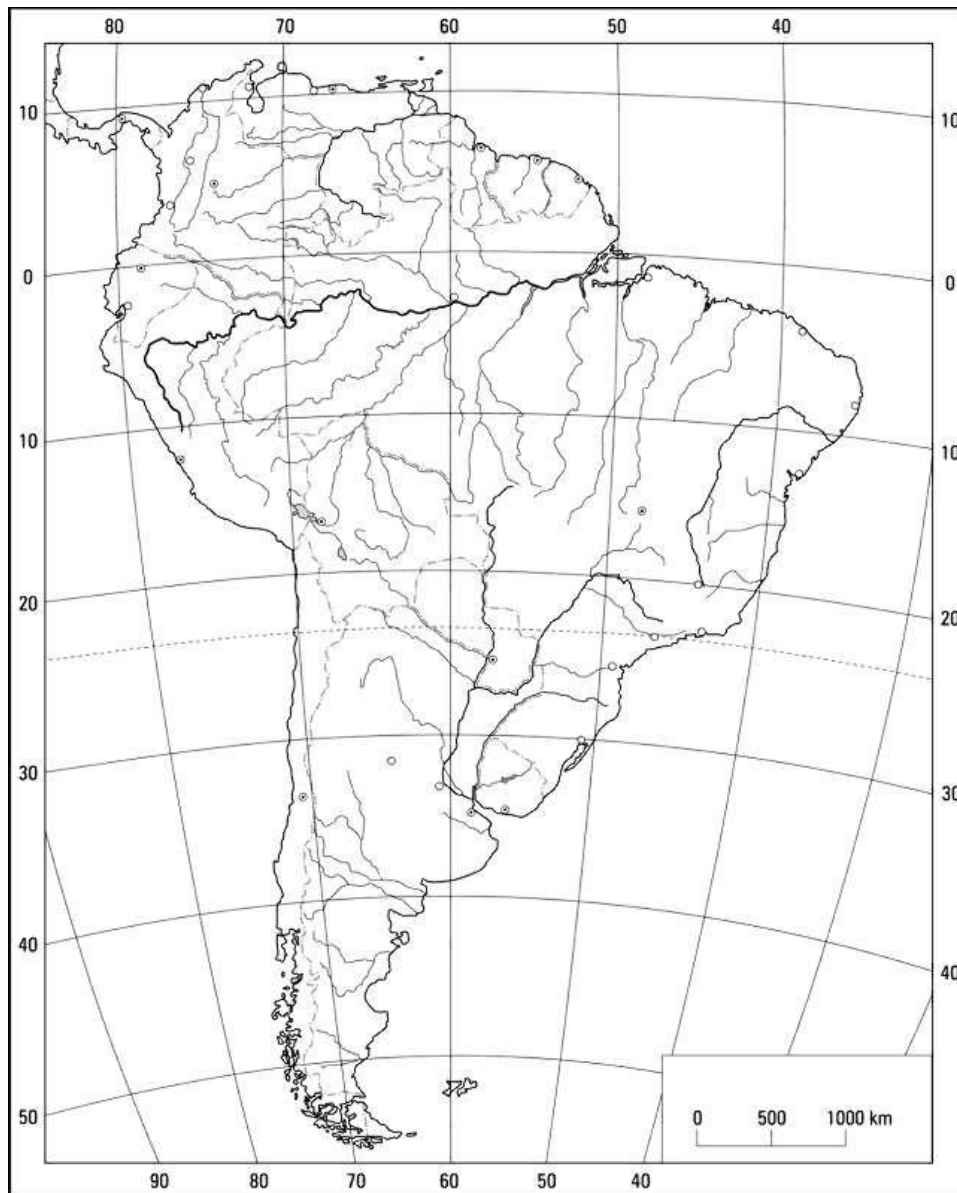
Zadanie 25.

(0 – 2 p.)



Za pomocą cyfr zaznacz na mapie podane obiekty geograficzne.

- 1 – Wyżyna Gujańska
- 2 – Wyżyna Patagońska
- 3 – Pampa
- 4 – Falklandy / Malwiny



Źródło: <http://geogim17.yum.pl/mapy-konturowe/ameryka/>

Brudnopsis: